
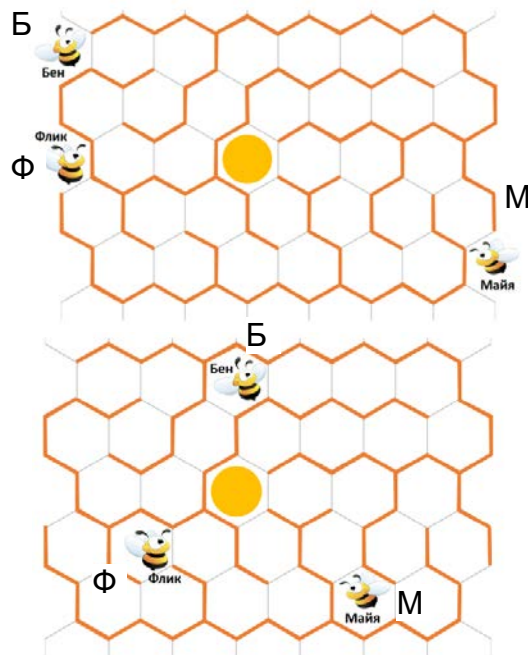


Пажљиво прочитајте текстове задатака. Можете их решавати произвољним редоследом. Одговоре и решења треба да напишете на листићу за одговоре.



Задатак 1. Одредите колико канапа има на слици лево.

Задатак 2. Три пчеле су истовремено ушле у лавиринт и почеле да лете ка меду. Кроз две минуте оне су већ биле у следећим деловима лавиринта. Којим редом ће пчеле доћи до саћа с медом?

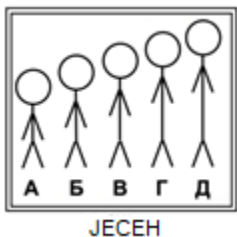


Задатак 3. Гномови (патуљци) Глоин, Балин, Дори, Нори и Фили носе каљаче број 34, 35, 36, 37 и 38. Једног дана после кише помешали су каљаче: Глоин је обуо каљаче број 38, а сви остали су обули 2 броја веће или 2 броја мање. Ко је обуо које каљаче?

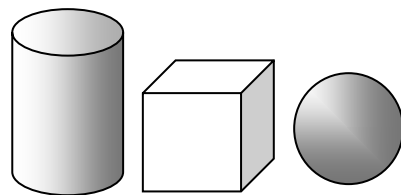
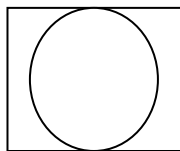
Задатак 4. Замените слова цифрама (једнаке – једнаким, различите – различитим) тако, да зборови слова исте боје буду једнаке.

ОЛИМПИАДА

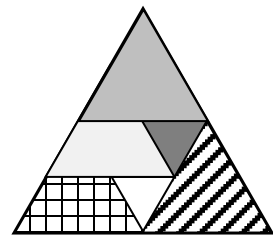
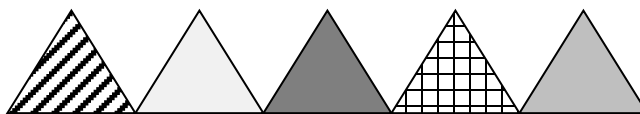
Задатак 5. Браћа Антон, Бора, Вова, Гриша и Дима постројили су се по висини и фотографисали у пролеће. Током лета, сваки од њих је порастао на свој начин: Гриша је претекао тачно два брата по висини, Дима је претекао тачно једног брата, а остали дечаци никога нису прерасли. Дечаци су се поново фотографисали у јесен. Потпишите имена дечака на пролећној фотографији.



Задатак 6. Мађионичар има три дрвена геометријска тела: ваљак, коцку и лопту (као на слици). Ставио је сва три тела једно на друго и фотографисао одозго. Нацртајте како ова конструкција изгледа са предње стране. (Страница коцке и пречници лопте и ваљка су једнаки)



Задатак 7. Пет троуглова су један за другим стављани у велики троугаони рам. Који троугао је постављен као трећи по реду?



Задатак 8. Вук, Лисисица и Зец имају три јабуке различитих величина. Зец је рекао: «Ја имам најмању јабуку». Вук: «Моја јабука је већа од Лијине» Лисица: «Зец има највећу јабуку». Показало се да је животиња која је имала највећу јабуку слагала, а остале су рекле истину. Ко има какву јабуку?